




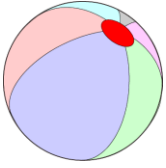


வினாக்களுக்கேற்ற விடையளி.

1. வட்ட வடிவில் உள்ள பொருளைத் தேர்ந்தெடுக்கவும்.



2. கீழ்க்கண்டவற்றுள் எது உருண்டை வடிவம்?



3. பெட்டியின் வடிவம் என்ன?



4. பூமியின் வடிவம் என்ன?

5. கீழ்க்காணும் பொருளின் வடிவத்தைக் கூறுக?



6. உனக்குத் தெரிந்த பொருள்களின் வடிவங்களை எழுதுக?