

தேதி: _____

பெயர்: _____

கீழ் கொடுக்கப்பட்டுள்ள காய்கறிகளில் அவற்றிற்கு இணையான படங்களில் உள்ள கட்டத்தின் எண்ணை எடுத்தெழுதுக.

வெண்டைக்காய்



1



2

கேரட்

செங்கிழங்கு



3




4

பாகற்காய்

பூக்கோசு




5




6

உருளைக்கிழங்கு

இலைக்கோசு



7



8

கத்தரிக்காய்